

Олимпиадная работа  
школьного этапа всероссийской олимпиады школьников  
по географии  
обучающегося 7 класса  
муниципального бюджетного общеобразовательного учреждения  
средней общеобразовательной школы № 21  
г.Пятигорска Ставропольского края

Расуловой  
Лейлы

Педагог-наставник: учитель географии  
муниципального бюджетного  
общеобразовательного учреждения  
средней общеобразовательной школы  
№21 г. Пятигорска Ставропольского  
края

Карапетян Л. А

23 сентября 2021 года

## Тестовый тур

- 1,5 1. Какой ученый считается «отцом» теории дрейфа континентов:  
1) Ньютон; 2) Вегенер; 3) Эйнштейн; 4) Агассиз
- 1,5 2. Какая из этих стран не имеет выхода к морю:  
1) Нигер; 2) Ирак; 3) Уругвай; 4) Сенегал
- 1,5 3. На каком флаге изображены созвездия зодиака:  
1) США; 2) Новая Зеландия; 3) Бразилия; 4) Китай.
- 1,5 4. Самой низкой отметкой на Земном шаре является впадина:  
1) Ассаль; 2) Г'хор; 3) Катгара; 4) Турфанская 5) Карагие
- 1,5 5. Какая природная зона отсутствует на материках Южного полушария:  
1) жестколистные вечнозелёные леса; 2) саванны и редколесья;  
3) полунустыни и пустыни; 4) тундра и лесотундра
- 1 6. Какие ресурсы относятся к исчерпаемым возобновимым:  
1) Рудные; 2) Почвенные; 3) Лесные; 4) Солнечная энергия
7. Какие равнины из названных не соответствуют древним платформам?  
1) Северо-Германская 2) Индо-Гангская  
3) Западно-Сибирская 4) Туранская 5) Великая Китайская
- 1,5 8. День 21 марта в северном полушарии называют днём:  
1) Летнего солнцестояния 2) Весеннего равноденствия 3) Осеннего равноденствия  
4) Зимнего солнцестояния
- 1,5 9. Наиболее подробно территория изображена на карте масштаба:  
1) 1:2 500 2) 1:25 000 3) 1:250 000 4) 1:25 000 000
- 1,5 10. Параллель, над которой Солнце находится в зените 22 июня, называется Северным тропиком
- 1,5 11. Река, имеющая течение только почью расположена в пустыне Атакама
- 1,5 12. Сила, вызванная осевым вращением Земли, отклоняющая движущиеся предметы от первоначального направления, называется силой Кориолиса
- 1,3 13. Озеро в Антарктиде называется – Восток
- 1,5 14. Зоны литосферы, по которым происходит раздвижение литосферных плит, называются фронтами
- 1,5 15. Братья Бернардацци, Уиттон С.И., Семенов Н.И. – что объединяет эти имена?  
1) это знаменитые на КМВ строители и архитекторы, 2) это известные на КМВ врачи, 3) это выдающиеся писатели Юга России.
- 1,5 16. Выберите дату, когда оба полушария Земли освещены одинаково:  
1) 21 марта 2) 22 июня 3) 15 сентября 4) 1 января
- 1,5 17. Найдите правильную пару «элемент погоды – измерительный прибор»:  
1) температура – флюгер 2) атм. давление – осадкомер  
3) влажность воздуха – гигрометр 4) количество осадков – термометр
- 1,5 18. Превышение точки земной поверхности по отвесной линии над уровнем моря – это:  
1) горизонталь 2) абсолютная высота точки 3) относительная высота точки
- 1,5 19. В какой горной системе количество высотных природных поясов будет больше:  
1) Уральские горы 2) Гималаи 3) Саяны 4) Скапдинавские горы
- 1,5 20. Выберите природную зону, в которой четко прослеживается сухой и влажный периоды:  
1) тундра 2) тайга 3) саванны и редколесья

## Теоретический тур

5б.

### Задание 1.

Определите, какой вулкан, из перечисленных, имеет наибольшую и наименьшую относительную высоту:

*Мауна-Лоа* (абсолютная высота 4 170м; основание на глубине 1 560 м.),

*- наиб. ст. в. Котопаху* (абсолютная высота 5 897м; основание на высоте 520м),

*+ наиб. ст. в. Этна*, крупнейший вулкан Европы (абсолютная высота 3 340м; основание на высоте 350м),

*Килиманджаро* (абсолютная высота 5 895м; основание на высоте 1 020м).

### Задание 2.



По сообщениям компании «РИА Новости» 19 июня 2014 года в Симферополе состоялась церемония гашения марки с этим названием. Марка вышла в серии почтово-художественных марок, посвященных регионам России. На почтовой марке даны изображения морского пейзажа, виноградника и дворца «Ласточкино гнездо».

10б.



Определите регион России, изображенный на марке. Назовите полуостров, на котором он расположен. Какими морями он омывается, как соединяется с Восточно-Европейской равниной?

*1) Республика Крым; 2) Крымский полуостров; 3) омывается Азовским и Черным морями; 4) Узким Перекопским перешейком.*

### Задание 3.


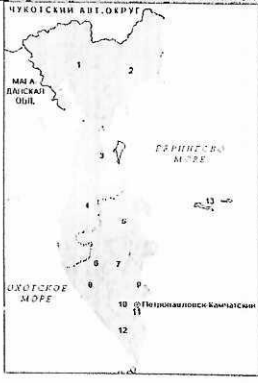
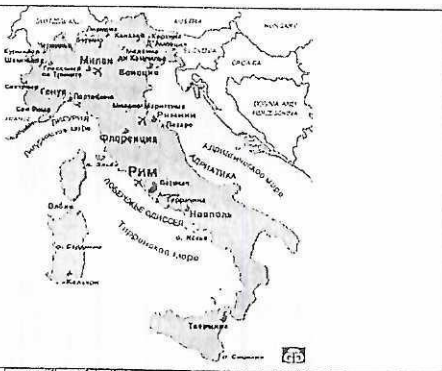

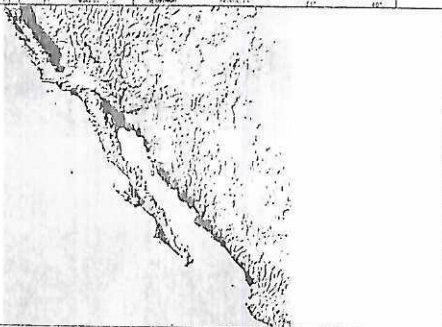
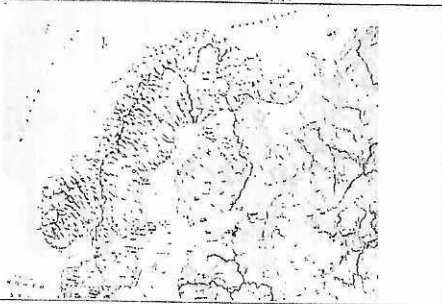
Определите объект по его изображению. Вам предстоит указать название этих полуостровов и ответить на вопросы, касающихся каждого из них. Результат запишите в таблицу.

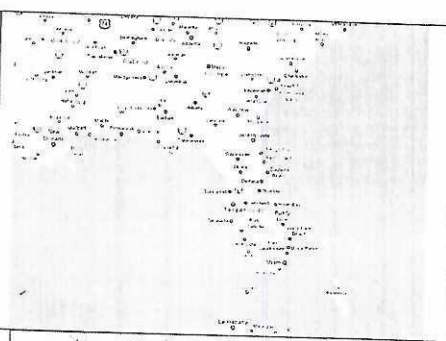

20б.

№	Изображение	Название объекта	Особенности объекта
1.		<i>Крымский полуостров</i>	1. Название полуострова на востоке <i>Керченский п-ов.</i> ; 2. Название косы на северо-востоке <i>Бакальская коса.</i>
2.		<i>полуостров Сомали</i>	Две крупные страны, расположенные на этом полуострове: 1. <i>Сомали</i> ; 2. <i>Эфиопия</i> .

2

3

3.		<p>Иберийский полуостров</p>	<p>Две крупные страны, расположенные на этом полуострове:</p> <ol style="list-style-type: none"> <li>1. <u>Испания</u>;</li> <li>2. <u>Португалия</u>.</li> </ol>	3
4.		<p>Чукотский полуостров.</p>	<p>1. Название океана, в который впадает этот полуостров: <u>Северо-Ледовитый</u>;</p> <p>2. Название региона России, который частично расположен на этом полуострове: <u>Камчатка</u>.</p>	
5.		<p>Апеннинский полуостров</p>	<p>1. Название страны, в основном располагающейся в границах этого полуострова: <u>Италия</u>.</p> <p>2. Столица этой страны <u>Рим</u>.</p>	2
6.		<p>Аравийский полуостров.</p>	<p>1. Самая крупная страна на полуострове: <u>Саудовская Аравия</u>.</p> <p>2. Залив на северо-востоке полуострова: <u>Персидский</u>.</p>	3
7.		<p>полуостров Калифорния</p>	<p>1. К территории какой страны относится полуостров: <u>Северная Америка</u>.</p>	1
8.		<p>Скандинавский полуостров</p>	<p>Назовите две страны, территории которых полностью расположены на этом полуострове:</p> <ol style="list-style-type: none"> <li>1. <u>Швеция</u>;</li> <li>2. <u>Норвегия</u>.</li> </ol>	3

9.		<p><i>полуостров Иберия</i></p>	<p>1. К какой стране относится этот полуостров: <u>США</u></p>
10.		<p><i>Индонезийский полуостров</i></p>	<p>1. Какая страна занимает практически полностью территорию этого полуострова: <u>Китай</u></p> <p>2. Столица этой страны <u>Пекин</u></p>

3

205

**Задание 4**

Изучите представленные космические снимки (рисунок 1, 2) известных географических объектов. Ответьте на вопросы:

1. Назовите представленные географические объекты.
2. Где они находятся?
3. Опишите эти объекты (происхождение, уникальность, антропогенные изменения).

Рисунок 1.

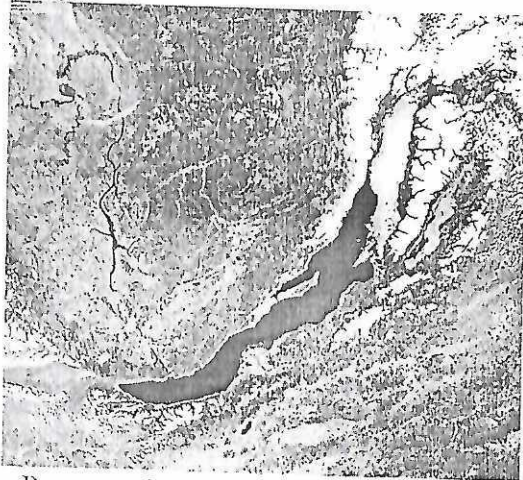



Рисунок 2



Заполните таблицу

10

10

Название географического объекта	Материк	Страна	Характеристика объекта, в чем его уникальность
оз. Байкал	Евразия	Россия	Самое глубокое пресное озеро мира - 744 м.
Каспийское море	Евразия	Россия	Крупнейший на Земле замкнутый водоем.

Итого: 838.

Эксперт: Каранетян А.А.

Олимпиадная работа  
школьного этапа всероссийской олимпиады школьников  
по географии  
обучающегося 7 класса  
муниципального бюджетного общеобразовательного учреждения  
средней общеобразовательной школы № 21  
г.Пятигорска Ставропольского края

Купцовой  
Анастасии

Педагог-наставник: учитель географии  
муниципального бюджетного  
общеобразовательного учреждения  
средней общеобразовательной школы  
№21 г. Пятигорска Ставропольского  
края

Каранетян Л. А.

23 сентября 2021 года

Тестовый тур

- 1,5 ✓ 1. Какой ученый считается «отцом» теории дрейфа континентов:  
1) Ньютон; 2) Вегенер; 3) Эйнштейн; 4) Агассиз
- 1,5 ✓ 2. Какая из этих стран не имеет выхода к морю:  
1) Нигер; 2) Ирак; 3) Уругвай; 4) Сенегал
- 1,5 ✓ 3. На каком флаге изображены созвездия зодиака:  
1) США; 2) Новая Зеландия; 3) Бразилия; 4) Китай.
- 1,5 ✓ 4. Самой низкой отметкой на Земном шаре является впадина:  
1) Ассаль; 2) Гхор; 3) Катгара; 4) Турфанская 5) Карагие
- 1,5 ✓ 5. Какая природная зона отсутствует на материках Южного полушария:  
1) жестколистные вечнозелёные леса; 2) саванны и редколесья;  
3) полупустыни и пустыни; 4) тундра и лесотундра
- 1 ✓ 6. Какие ресурсы относятся к исчерпаемым возобновимым:  
1) Рудные; 2) Почвенные; 3) Лесные; 4) Солнечная энергия
- ✓ 7. Какие равнины из названных не соответствуют древним платформам?  
1) Северо-Германская 2) Индо-Ганская  
3) Западно-Сибирская 4) Туранская 5) Великая Китайская
- 1,5 ✓ 8. День 21 марта в северном полушарии называют днём:  
1) Летнего солнцестояния; 2) Весеннего равноденствия; 3) Осеннего равноденствия  
4) Зимнего солнцестояния
- 1,5 ✓ 9. Наиболее подробно территория изображена на карте масштаба:  
1) 1:2 500 2) 1:25 000 3) 1:250 000 4) 1:25 000 000
- 1,5 ✓ 10. Параллель, над которой Солнце находится в зените 22 июня, называется северным тропиком
- 1,5 ✓ 11. Река, имеющая течение только почью расположена в пустыне Атакама
- 1,5 ✓ 12. Сила, вызванная осевым вращением Земли, отклоняющая движущиеся предметы от первоначального направления, называется сила Кориолиса
- 1,5 ✓ 13. Озеро в Антарктиде называется - Восток
- 1,5 ✓ 14. Зоны литосферы, по которым происходит раздвижение литосферных плит, называются рифтами
- 1,5 ✓ 15. Братья Бернардацци, Уиттон С.И., Семенов Н.Н. – что объединяет эти имена?  
1) это знаменитые на КМВ строители и архитекторы, 2) это известные на КМВ врачи, 3) это выдающиеся писатели Юга России.
- 1,5 16. Выберите дату, когда оба полушария Земли освещены одинаково:  
✓ 1) 21 марта 2) 22 июня 3) 15 сентября 4) 1 января
- 1,5 ✓ 17. Найдите правильную пару «элемент погоды – измерительный прибор»:  
1) температура – флюгер 2) атм. давление – осадкомер  
3) влажность воздуха – гигрометр 4) количество осадков – термометр
- 1,5 ✓ 18. Превышение точки земной поверхности по отвесной линии над уровнем моря – это:  
1) горизонталь 2) абсолютная высота точки 3) относительная высота точки
- 1,5 ✓ 19. В какой горной системе количество высотных природных поясов будет больше:  
1) Уральские горы 2) Гималаи 3) Саяны 4) Скандинавские горы
- 1,5 ✓ 20. Выберите природную зону, в которой четко прослеживается сухой и влажный периоды:  
1) тундра 2) тайга 3) саванны и редколесья



## Теоретический тур

### Задание 1.

Определите, какой вулкан, из перечисленных, имеет наибольшую и наименьшую относительную высоту:

Мауна-Лоа (абсолютная высота 4 170м; основание на глубине 1 560 м.),

Котопаху (абсолютная высота 5 897м; основание на высоте 520м),

Этна, крупнейший вулкан Европы (абсолютная высота 3 340м; основание на высоте 350м),

Килиманджаро (абсолютная высота 5 895м; основание на высоте 1 020м).

### Задание 2.



По сообщениям компании «РИА Новости» 19 июня 2014 года в Симферополе состоялась церемония гашения марки с этим названием. Марка вышла в серии почтово-художественных марок, посвященных регионам России. На почтовой марке даны изображения морского пейзажа, виноградника и дворца «Ласточкино гнездо».


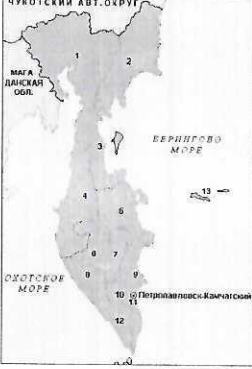


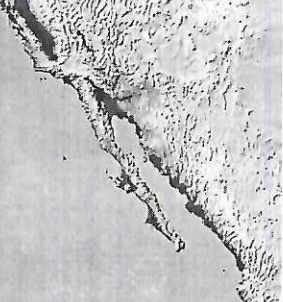

Определите регион России, изображенный на марке. Назовите полуостров, на котором он расположен. Какими морями он омывается, как соединяется с Восточно-Европейской равниной?



Республика Крым; Крымский полуостров; <sup>3</sup> черным морем и переконским проливом и перешейком Языми.

### Задание 3.

Определите объект по его изображению. Вам предстоит указать название этих полуостровов и ответить на вопросы, касающихся каждого из них. Результат занесите в таблицу.

№	Изображение	Название объекта	Особенности объекта
1.		<u>Крымский полуостров</u>	1. Название полуострова на востоке <u>Керченский по-в</u> ; 2. Название косы на северо-востоке <u>Бакальская коса</u> .
2.		<u>полуостров Синаи</u>	Две крупные страны, расположенные на этом полуострове: 1. <u>Синаи</u> ; 2. <u>Египетия</u> .

3.		<p><u>Иберийский</u> <u>полуостров</u></p>	<p>Две крупные страны, расположенные на этом полуострове: 1. <u>Испания</u> ; 2. <u>Португалия</u> .</p>	3
4.		<p><u>Чукотский</u> <u>полуостров</u></p>	<p>1. Название океана, в который впадает этот полуостров: <u>Северный Ледовитый</u> ; 2. Название региона России, который частично расположен на этом полуострове: <u>Камчатка</u> .</p>	
5.		<p><u>Апеннинский</u> <u>полуостров</u></p>	<p>1. Название страны, в основном располагающейся в границах этого полуострова: <u>Греция</u> . 2. Столица этой страны <u>Рим</u></p>	2
6.		<p><u>Аравийский</u> <u>полуостров</u></p>	<p>1. Самая крупная страна на полуострове: <u>Саудовская Аравия</u>. 2. Залив на северо-востоке полуострова: <u>Персидский Залив</u>.</p>	3
7.		<p><u>полуостров</u> <u>Калифорния</u></p>	<p>1. К территории какой страны относится полуостров: <u>Северная Америка</u></p>	1
8.		<p><u>Скандинавский</u> <u>полуостров</u></p>	<p>Назовите две страны, территории которых полностью расположены на этом полуострове: 1. <u>Норвегия</u> ; 2. <u>Швеция</u> .</p>	3

9.		<p><u>полуостров</u> <u>Иберийский</u></p>	<p>1. К какой стране относится этот полуостров: <u>США</u>.</p>
10.		<p><u>Иодукский</u> <u>полуостров</u></p>	<p>1. Какая страна занимает практически полностью территорию этого полуострова: <u>Китай</u>.</p> <p>2. Столица этой страны <u>Пекин</u></p>

#### Задание 4


Изучите представленные космические снимки (рисунок 1, 2) известных географических объектов. Ответьте на вопросы:

1. Назовите представленные географические объекты.
2. Где они находятся?
3. Опишите эти объекты (происхождение, уникальность, антропогенные изменения).

Рисунок 1.



Рисунок 2



Заполните таблицу

Название географического объекта	Материк	Страна	Характеристика объекта, в чем его уникальность
<u>озеро Байкал</u>	<u>Евразия</u>	<u>Россия</u>	<u>самое глубокое пресное озеро мира</u> <u>глубина 738 м.</u>
<u>Каспийское море</u>	<u>Евразия</u>	<u>Россия</u>	<u>крупнейший на земле замкнутый водоем.</u>

10

10

Итого: 835

Эксперт: Чарантеев Л. А.